

PLESSO NICOLA GIORDANO CLASSE V

SETTIMANA DAL 23 AL 27 MARZO

INSEGNANTE LINZITTO

MATEMATICA

- Eseguire le espressioni

2 Risolvi le espressioni con le parentesi tonde, quadre e graffe sul quaderno. Ricordati le potenze!

$$6 \times [50 - (2^3 - 2^2) \times 10] \times 2 : 10^1 =$$
$$[(200 : 10^2 + 5^2) : 9 + 2^3 - 1] \times 2 + 2^4 + 28 : 7 =$$
$$2 \times 5^2 - \{8^2 : 8^1 \times [(45 : 5 + 3^2) - 4^2] - 2 \times 7\} =$$
$$1^8 \times \{[(2^2 + 2^2) \times 5 - (36 : 9 + 3^0)] - 40 : 8\} =$$
$$\{[4^2 + (5 + 1 - 10 : 2)] + (2^3 : 8^1 + 20 \times 2)\} : 2^1 =$$
$$\{3 + [6 \times 2^3 : (10^2 : 5^2 + 2) + 6^0] - 7 + 3 \times 5\} : 4 =$$
$$3^2 + \{[(3^2 \times 5^1 - 7^0 - 4 \times 2) \times 1^{10}] : 2^2 + 7\} - 10 =$$

- Esegui le seguenti operazioni in colonna

$$106,385 + 147,537 + 9430 =$$

$$12309,748 + 425 + 57,519 =$$

$$75870,12 - 37906,2 =$$

$$692703,251 - 3547,8 =$$

$$132,7 \times 4,23 =$$




$$16,16 \times 9,2 =$$

$$87,29 : 32 =$$

$$406,2 : 4,8 =$$

- Quaderno operativo: completa pag 34 n 3-4-5 (a-b); pag 35 n 4
- Riprodurre e completare la tabella sul quaderno

Completa la tabella calcolando i perimetri e le aree dei rettangoli.

rettangoli	dati	perimetro	area
	AB = 6,5 cm AD = 14 cm	p = _____ = _____ cm	A = _____ = _____ cm ²
	LM = 5,2 cm LO = 4,6 cm	p = _____ = _____ cm	A = _____ = _____ cm ²
	RS = 15 cm RU = 38 cm	p = _____ = _____ cm	A = _____ = _____ cm ²

STORIA

- Completare pag 56- 57 quaderno operativo
- Iniziare lo studio dei Romani: guarda il [video](#)
- Studiare pag 73 e pag 76. Leggere pag 74-75. Ricopiare sul quaderno la linea del tempo pag 73

INGLESE

- Ripassare i giorni della settimana guardando il [video](#)
- Leggere pag 42- 43. Studia il lessico sulle attività del tempo libero pag 43.
- Completa pag 44
- Esegui l'esercizio

2 Put the words in order.

1 doesn't football She play . *She doesn't play football.*

2 don't They uniform a wear .

3 doesn't at start School six o'clock .

4 doesn't It live in grasslands .

5 don't cook food We .

6 You help don't animals .

7 save I people don't .

INSEGNANTE VANGELISTA

ITALIANO

Libro di lettura:

Leggi e studia pag.162 “FACCIO IL PUNTO”

Esegui la parafrasi della poesia “MARZO” aiutandoti con le parole scritte “TRA LE RIGHE” ed imparala a memoria.

Leggi le pp. 238 e 239 e svolgi le attività.

Libro di Riflessione Linguistica:

Studia le pp. 32 e 33 ed esegui gli esercizi

Analisi grammaticale delle seguenti frasi:

La proposta di cui mi ha parlato Elena è molto interessante.

L'insegnante a cui ho parlato mi ha dato ottimi consigli.

I bambini con i quali giocate sono molto educati.

Il re di cui si parla nella favola era buono. Hai salvato un uomo che non conosci?

Che affare che ho fatto!

ARTE

Leggi la seguente poesia di Roberto Piumini ed illustrala:

Esistere è avere libertà,
avere nome, cibo, educazione,
spazio e aiuto nella malattia,
notizie, casa, gioco, occupazione.
Ognuno ha dei diritti, e sono santi,
e sono dei diritti, non regali:
ma non ci sono solo i miei diritti,
perché ogni altro ha diritti uguali.
Dentro la libertà ci sono leggi
Che salvano i diritti di ciascuno:
togliere o calpestare altri diritti
è un diritto che non ha nessuno.

Chi vuole può fare pervenire il proprio disegno al mio cellulare: 33412 2692

INSEGNANTE CALIRI

SCIENZE: Studiare pag 156,157.... Rispondi sul quaderno domande Comprendo ed Espongo e Completa la pag.88 del quaderno operativo. Guardare il [video](#)

GEOGRAFIA: Studiare pag. 171,172,173.....Fai una ricerca sulle Terme : quali sono i loro benefici ed elenca alcune località' termali italiane. Completa pag. 84 del quaderno operativo e rispondi alle domande Osservo e Confronto. Guardare il [video](#)

TECNOLOGIA: [Scheda didattica](#) (scrivi il materiali di cui sono formati gli oggetti)

MUSICA: Ascolta gli strumenti musicali contenuti nella fiaba "[Pierino e il Lupo](#)" e completa la [scheda didattica](#)

INSEGNANTE SERIO

Italiano

Favolosi linguaggi pag 108. Svolgi le attività

Facile pag 93/94. Svolgi le attività

Matematica

Favolosi saperi pag 17 lettera A/B

Ripassa tabelline

Storia

Favolosi saperi pag 75

Schede con attività semplificate inviate via whatsapp

INSEGNANTE Russo V.

Religione

Leggere pag.78 (verde). Pag.106 (quaderno attivo)

Ricopia lo schema sul quaderno (Utilizza una o più pagine e se vuoi coloralo)

ALLA SCOPERTA DELLE RELIGIONI: IL CRISTIANESIMO

ORIGINE	Religione monoteista nata piu' di 2000 anni fa in Palestina
FONDATORE	Gesù di Nazaret, che viene detto il Cristo (unto di Dio) da cui deriva cristiani

DIVINITA'	I cristiani credono in UN UNICO DIO, che si manifesta come Padre, Figlio e Spirito Santo
PRINCIPI DI FEDE	Il cristianesimo si basa sul COMANDAMENTO DELL'AMORE . Segni importanti sono i SACRAMENTI
LUOGO DI PREGHIERA	CHIESA
GUIDE RELIGIOSE	SACERDOTI, VESCOVI E IL PAPA (Capo della Chiesa)
GIORNO SACRO e FESTE PRINCIPALI	DOMENICA NATALE, PASQUA, PENTECOSTE...
LIBRO SACRO	LA BIBBIA (divisa in Antico e Nuovo Testamento)
LUOGHI DI PELLEGRINAGGIO	Terra santa (i luoghi dove ha vissuto Gesù), Roma (sede del papa) e tanti santuari e cattedrali in tutto il mondo
SIMBOLI	La CROCE , che non solo ricorda il sacrificio di Gesù, ma riassume il messaggio cristiano: l'asta verticale rappresenta l'amore verso Dio, quella orizzontale l'amore per gli uomini
DIFFUSIONE	Europa, America (soprattutto centrale e meridionale), Africa, Asia e Oceania